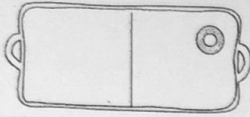



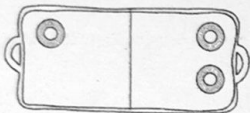

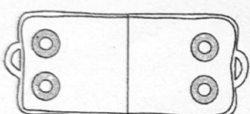

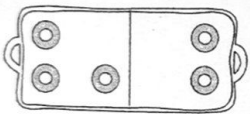

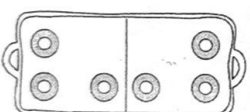

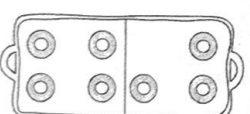
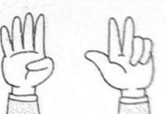
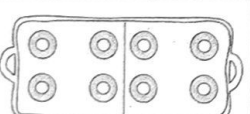

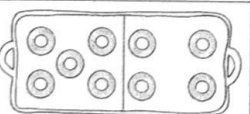

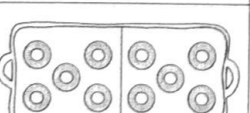
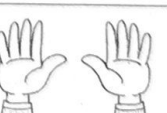


1		Nelle due parti il numero delle ciambelle <b>non</b> è uguale		DISPARI
2		Nelle due parti il numero delle ciambelle è uguale		PARI
3		Nelle due parti il numero delle ciambelle <b>non</b> è uguale		.....
4		Nelle due parti il numero delle ciambelle è uguale		.....
5		Nelle due parti il numero delle ciambelle <b>non</b> è uguale		.....
6		Nelle due parti il numero delle ciambelle è uguale		.....
7		Nelle due parti il numero delle ciambelle <b>non</b> è uguale		.....
8		Nelle due parti il numero delle ciambelle è uguale		.....
9		Nelle due parti il numero delle ciambelle <b>non</b> è uguale		.....
10		Nelle due parti il numero delle ciambelle è uguale		.....